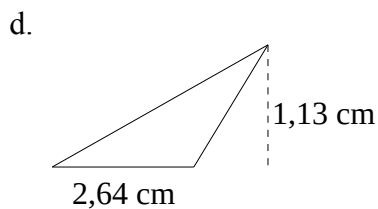
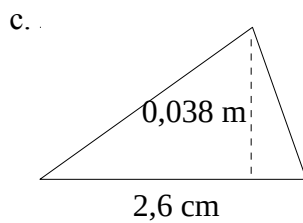
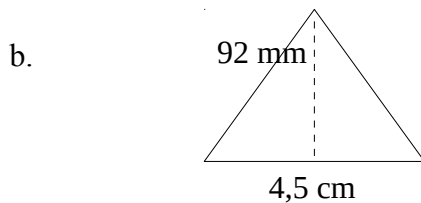
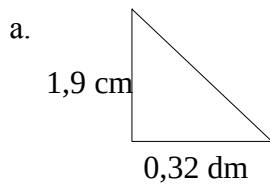


Identificação:

1. Calcula (em cm^2) a área de cada um dos seguintes triângulos:



2. Calcula a área de um triângulo cuja base tem 9 cm e a altura é metade da base.

3. Calcula a área de triângulo retângulo isósceles cujos lados menores medem 3,8 cm.

4. Calcula a área do triângulo que resulta da metade de um quadrado de área 25 cm^2