

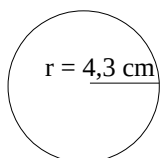
Identificação:

1. Calcula a área dos círculos com as seguintes medidas:

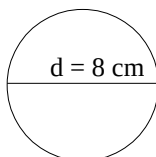
- a. $r = 10 \text{ cm}$
- b. $d = 12 \text{ cm}$
- c. $r = 1,3 \text{ cm}$
- d. $d = 18 \text{ mm}$

2. Calcula a área de cada um dos seguintes círculos

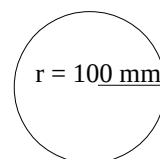
a.



b.



c.



3. Calcula a área de um círculo de perímetro 31,4 cm.

4. Calcula a área de um círculo de perímetro 18,84 cm

5. Preenche a seguinte tabela:

r (raio)	d (diâmetro)	P (Perímetro)	A (Área)
	1,8 dm		
1 cm			
		157 mm	
			50,24 cm
2,3 cm			
	0,4 m		
		0,785 dm	