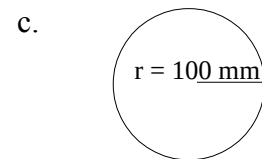
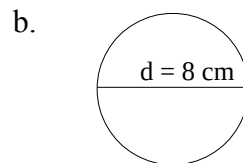
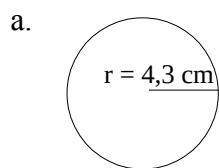


Identificação:

1. Calcula o perímetro dos círculos com as seguintes medidas:

- a. $r = 10 \text{ cm}$
- b. $d = 12 \text{ cm}$
- c. $r = 1,3 \text{ cm}$
- d. $d = 18 \text{ mm}$

2. Calcula o perímetro de cada um dos seguintes círculos



3. Calcula o perímetro de um semi-círculo (metade de um círculo) de raio 5 cm

4. Calcula o perímetro de um quarto de círculo de diâmetro 8 cm

5. Preenche a seguinte tabela:

r (raio)	d (diâmetro)	P (Perímetro)
	1,8 dm	
1 cm		
		157 mm
2,3 cm		
	0,4 m	
		0,785 dm