

Identificação:

1. Faz a leitura de cada uma das seguintes frações de três maneiras:

a. $\frac{2}{9}$

c. $\frac{16}{15}$

b. $\frac{1}{8}$

d. $\frac{3}{21}$

2. Escreve na forma de fração:

a. quatro quintos

d. sete centésimos


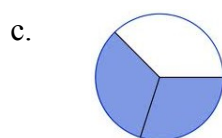
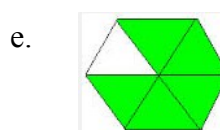
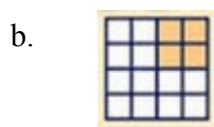
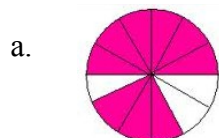
b. nove décimos

e. catorze sobre treze

c. dezasseis vinte avos

f. quarenta e cinco nonos

3. Representa sob a forma de fração:



4. Representa graficamente as frações que se seguem:

a. $\frac{4}{5}$

b. um décimo

c. $\frac{3}{8}$

5. O meu denominador é o dobro do numerador e a soma deles é seis. Quem sou?