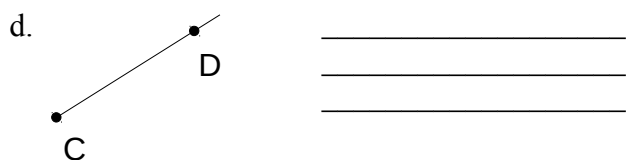
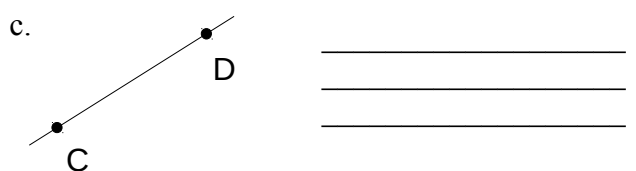
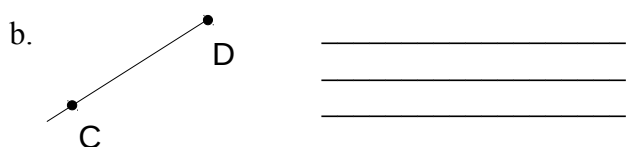
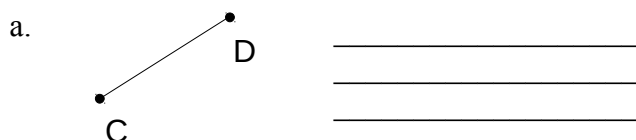


Identificação:

1. Usa as expressões do quadro ao lado para descrever cada figura.



Semirreta
 \overrightarrow{CD}
 Não tem princípio nem fim
 $[CD]$
 Reta
 Tem princípio em C mas não tem fim
 Tem princípio e fim
 \overline{CD}
 Tem princípio em D mas não tem fim
 Segmento de Reta
 \overline{DC}

2. Desenha:

- Uma semirreta com princípio em M e que passa por P
- $[FR]$
- \overline{BL}
- Uma reta que passa em J e I
- AB
- Um segmento de reta com extremidades em U e H

3. Encontra na figura ao lado:

- uma reta que passe em J
- uma semirreta que passe em M
- um segmento de reta que inclua o ponto H
- um segmento de reta que tenha início em O

